



ALLA SCOPERTA DEI MINUTI

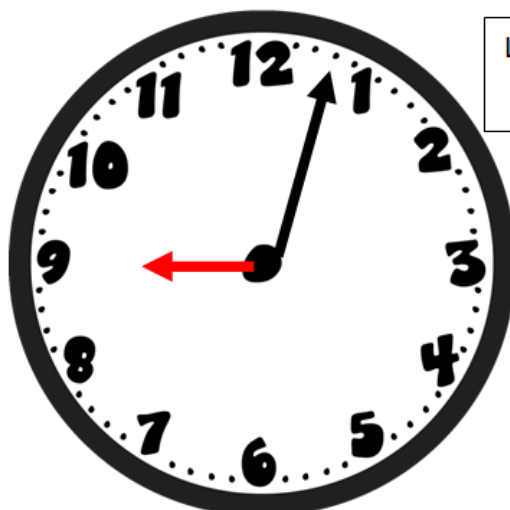
L'orologio ha due **LANCETTE**: quella corta indica le ore, quella lunga i minuti.

Un'ora è composta da **60 minuti**.

Se ci fai caso, sul quadrante dell'orologio ci sono proprio 60 trattini: ognuno di questi corrisponde a un minuto.

OSSERVA

LA LANCETTA CORTA
INDICA LE ORE.

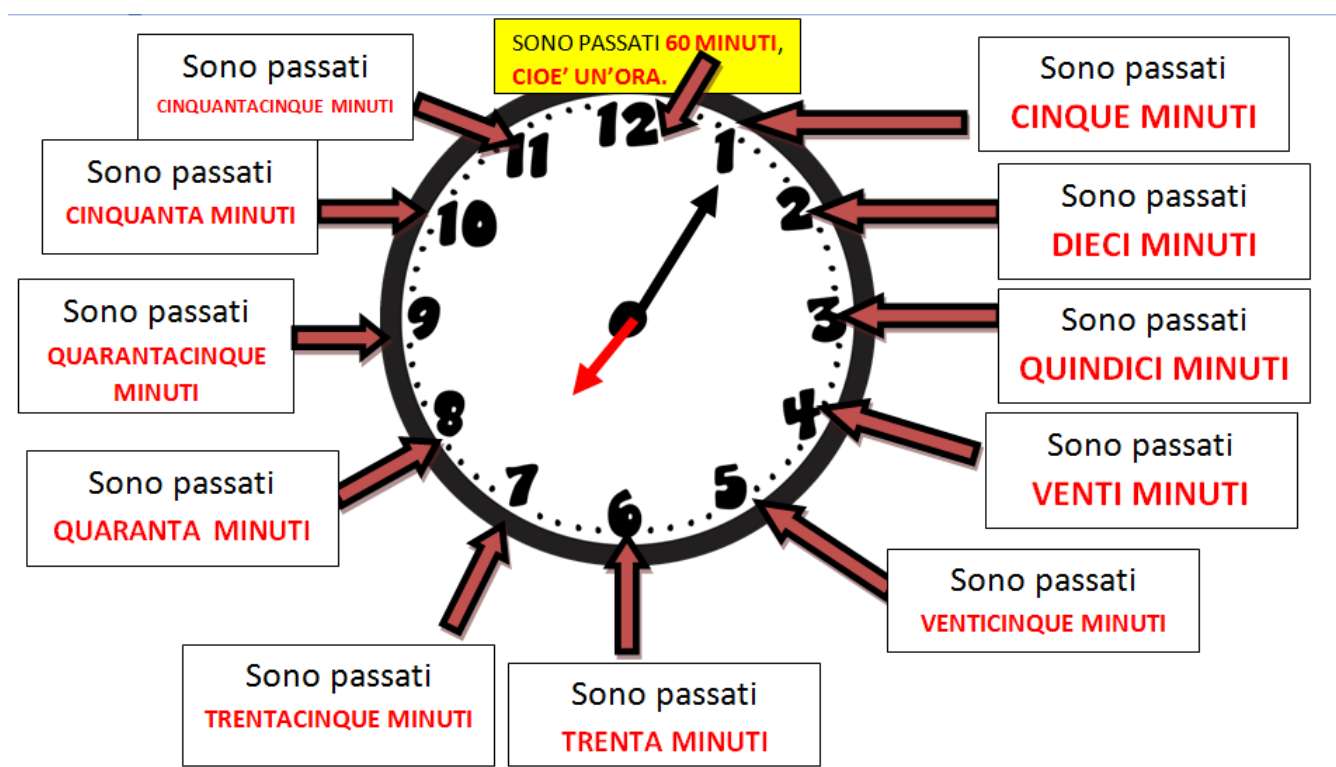


LA LANCETTA LUNGA
SEGNA I MINUTI.

SECONDO TE, QUINDI
CHE ORE SONO?


Sono le ___ e ___ minuti.

Ogni volta che la lancetta dei minuti si ferma su uno dei numeri presenti nel quadrante, vuol dire che sono passati **cinque minuti**.



Disegna sugli orologi le lancette per formare i seguenti orari:

9, 15 - 10,40 - 11,50 - 8,20 - 6,45 - 11,00
12,13 - 2,10 - 11,19.
Scrivi sotto ogni orologio, l'orario formato.



WWW.GIOCHIECOLORI.IT
maestro Fabio

